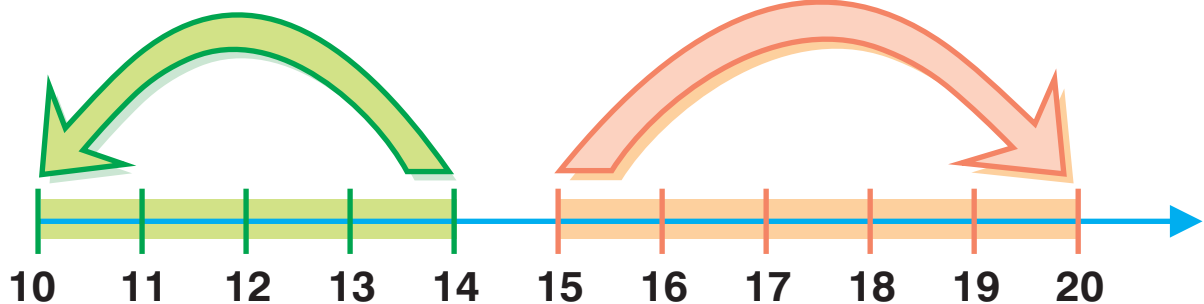


## Wir runden auf Zehner

### Abrunden

Die Einer 1, 2, 3, 4 musst du zum Zehner Vorgänger abrunden.



### Aufrunden

Die Einer 5, 6, 7, 8, 9 musst du zum Zehner Nachfolger aufrunden.

Wenn auf den Zehner gerundet wird, vereinfacht sich die Zahl auf den nächsten Zehner. An der Einerstelle der neuen Zahl steht eine Null.

### Abrunden

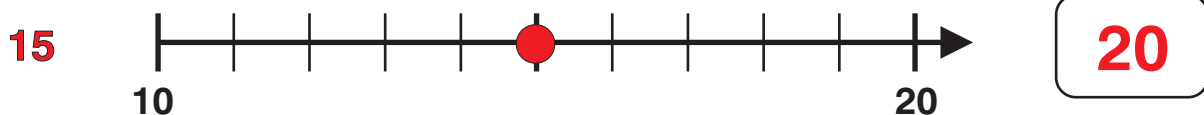


Da an der Einerstelle eine 4 steht, wird nach der Rundungsregel abgerundet, also auf den nächstkleineren Zehner gerundet.

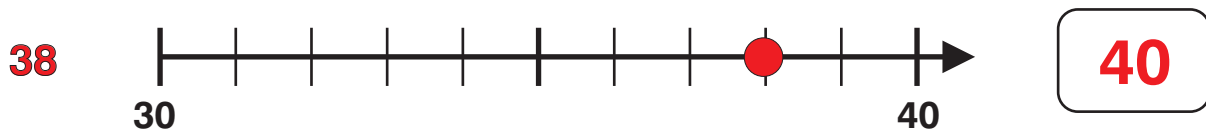


Da an der Einerstelle eine 2 steht, wird nach der Rundungsregel abgerundet, also auf den nächstkleineren Zehner gerundet.

### Aufrunden



Da an der Einerstelle eine 5 steht, wird nach der Rundungsregel aufgerundet, also auf den nächstgrößeren Zehner gerundet.



Da an der Einerstelle eine 8 steht, wird nach der Rundungsregel aufgerundet, also auf den nächstgrößeren Zehner gerundet.